
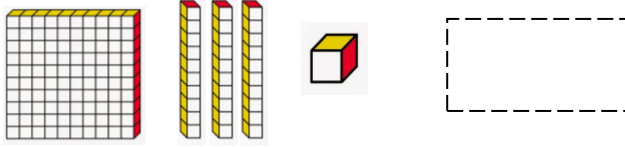


# Μαθήματα 7-8

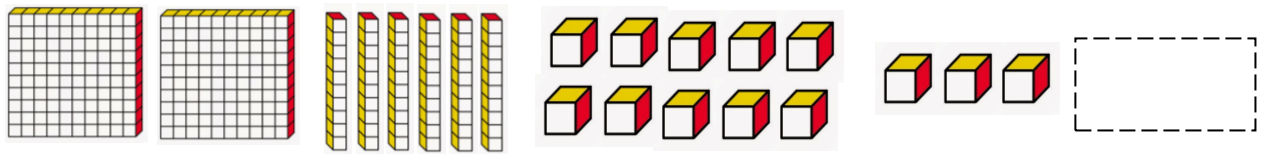
## Σύνθεση και Ανάλυση τριψήφιων αριθμών

1. Γράψε τον αριθμό μέσα στο κουτάκι.

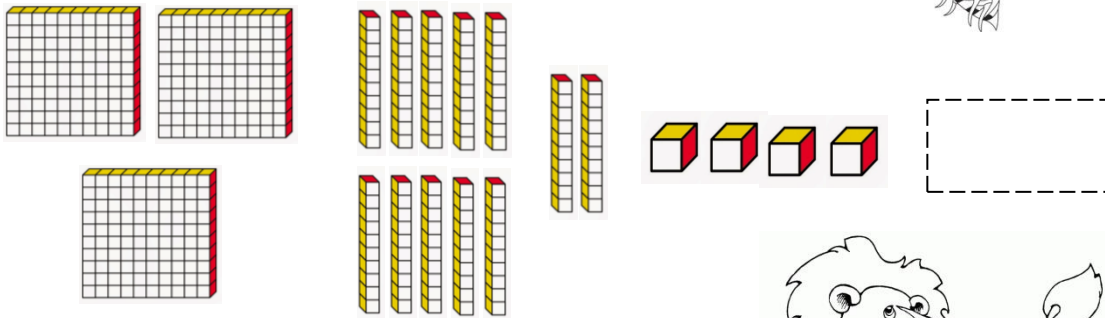
α)




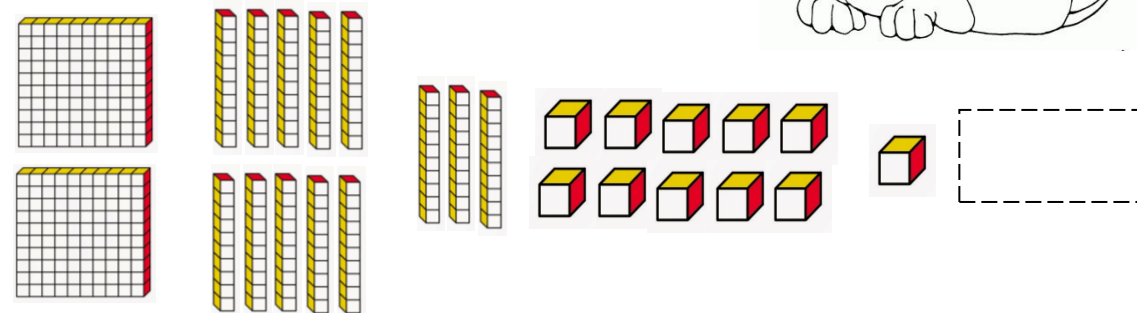
β)



γ)



δ)



2. Γράψε τον αριθμό με σύμβολα.

α) εκατό πενήντα επτά


β) τετρακόσια σαράντα ένα

γ) διακόσια σαράντα

δ) εξακόσια

ε) πεντακόσια είκοσι

στ) εννιακόσια εννιά


3. Σχεδιάσε τον αριθμό με 2 διαφορετικούς τρόπους.

3 2 6

1<sup>ος</sup> τρόπος

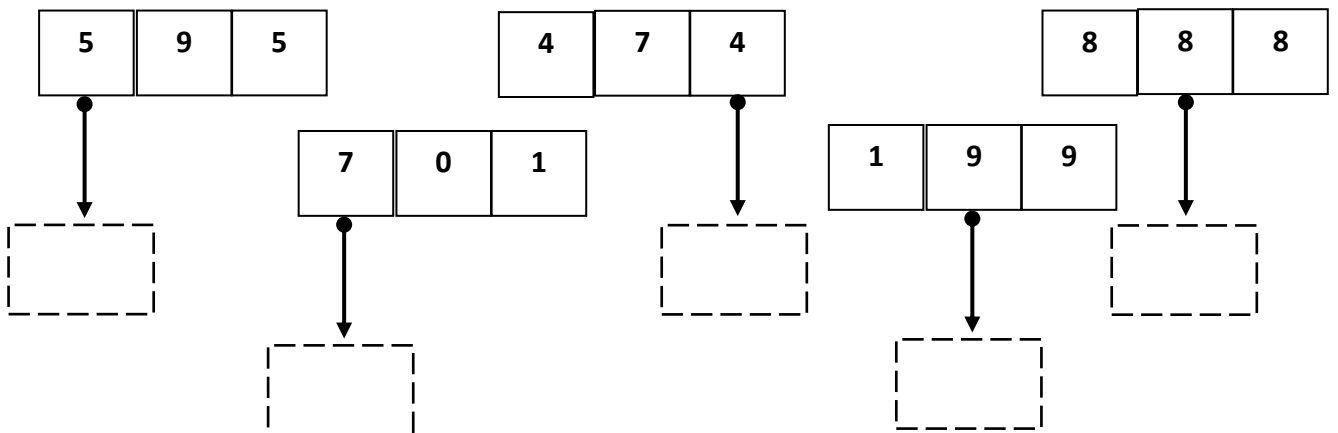
2<sup>ος</sup> τρόπος

1 1 7

1<sup>ος</sup> τρόπος

2<sup>ος</sup> τρόπος

4. Ποια είναι η αξία του ψηφίου που δείχνει το βέλος;



Όνομα:..... Τάξη: .....