



Ενότητα 1

Μαθήματα 1&2



Όνομα:

Τάξη: Ημερ.:

1. Χρωματίζω τον αριθμό που είναι γραμμένος σε κάθε κουτάκι.

εβδομήντα δύο

62

27

72

τριάντα τρία

30

33

23

ενενήντα εννιά

99

19

89

πεντακόσια

700

500

200

διακόσια εξήντα

160

206

260

τετρακόσια πενήντα

540

405

450



**επτακόσια ενενήντα
εννιά**

759

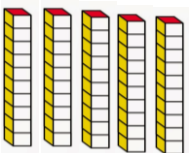


579

799



2. Συμπληρώνω τα κουτάκια.

**σαράντα πέντε
μονάδες**

**3 δεκάδες και έξι
μονάδες**



3. Σχεδιάζω τους πιο κάτω αριθμούς χρησιμοποιώντας κύβους dienes.

 1 δεκάδα
  1 μονάδα

[Empty box] 52
 [Empty box] 24

[Empty box] 49
 [Empty box] 33

4. Σε μια εκδρομή του Γυμνασίου χρειάστηκαν 6 λεωφορεία για τη μεταφορά των μαθητών. Ο πιο κάτω πίνακας παρουσιάζει τον αριθμό των μαθητών κάθε λεωφορείου.

Λεωφορείο	Αριθμός Μαθητών
1	63
2	34
3	55
4	49
5	61
6	40

1. Ποιο λεωφορείο είχε τους λιγότερους μαθητές;
.....
2. Ποιο λεωφορείο είχε τους περισσότερους μαθητές;
.....
3. Γράφω τους αριθμούς των μαθητών σε σειρά ξεκινώντας από τον μικρότερο.
.....
.....

5. Χρησιμοποιώ τα ψηφία 3, 4, 9, 7 και φτιάχνω:

- 4 διψήφιους αριθμούς

- 2 διψήφιους αριθμούς μεγαλύτερους από το 50

- 2 διψήφιους αριθμούς μικρότερους από το 50

