




# ΜΑΘΗΜΑΤΙΚΑ

## Ενότητα 1: Εξερευνώντας τους αριθμούς

### μέχρι το 1000



Όνοματεπώνυμο: ..... Ημερ. ....

1. Τα ψηφία των αριθμών ανακατεύτηκαν μέσα στη τσάντα του Μανώλη και



έχασε όλους τους τριψήφιους αριθμούς που είχε φτιάξει. Μπορείς να τον βοηθήσεις να φτιάξει τουλάχιστον τέσσερις, γράφοντας τους ολογράφως;

.....  
.....

.....  
.....

.....  
.....

.....  
.....



2. Στην τάξη τα παιδιά έπαιξαν ένα παιχνίδι με ζάρια. Ο Μανώλης έγραψε ολογράφως τους αριθμούς που έφερε στα ζάρια. Θα ήθελες να γίνεις το ζευγάρι του γράφοντας τους αριθμούς αυτούς με ψηφία για να κερδίσετε τα υπόλοιπα ζευγάρια;

εκατό δεκαοχτώ

.....  
.....

επτακόσια

.....  
.....

διακόσια ενενήντα δύο

.....  
.....

τετρακόσια τέσσερα

.....  
.....

τριακόσια ένα

.....  
.....

εξακόσια εξήντα

.....  
.....



3. Στη συνέχεια ο δάσκαλος τους ζήτησε να συμπληρώσουν τους πίνακες με τους αριθμούς που λείπουν.

221	222			225	226	227		229	
	232				236		238		

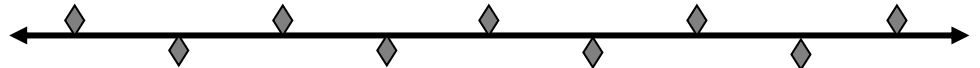
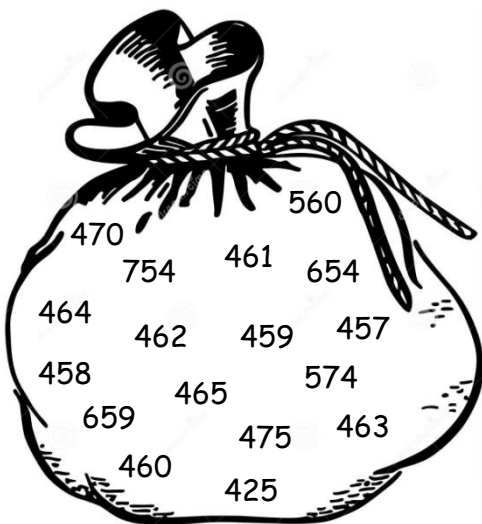
795	796			799	
-----	-----	--	--	-----	--

410	
420	421
	441

399			402		404
-----	--	--	-----	--	-----

4. Κάθε ζευγαράκι έχει στη διάθεση του ένα σακουλάκι με τριψήφιους αριθμούς με στόχο να φτιάξει μια αριθμητική γραμμή.

**ΠΡΟΣΟΧΗ!** Μέσα στο σακουλάκι υπάρχουν και αριθμοί που δεν ανήκουν στην αριθμητική γραμμή. Θα τα καταφέρεις να ολοκληρώσεις αυτή την αποστολή με το Μανώλη;



5. Πω, πω... Στην προσπάθεια του Μανώλη να συγκρίσει τα αριθμητήρια έχασε τις χάντρες. Μπορείς να τον βοηθήσεις προτού επιστρέψει ο δάσκαλος;

